

„Szolgálati titok!”  
„Titkos!”

Érvényességi idő:  
az írásbeli vizsga befejezésének  
időpontjáig  
A minősítő neve: Vízvári László  
A minősítő beosztása: főigazgató

<b>M E G O L D Ó L A P</b>
----------------------------

*szakmai írásbeli vizsga*

*Akupresszúra szak*

**2007. május 21.**

## T Á J É K O Z T A T Ó

az értékelő tanár részére

- A vizsgázó csak a kiosztott feladatlapon dolgozhat.
- Tévedés esetén helyes megoldásnak csak a vizsgázó egyértelmű javítása fogadható el.
- A dolgozatban előforduló esetleges hibákat, tévedéseket kérjük, feltűnően jelöljék!
- A feladatlap egységes értékeléséhez használják fel a rendelkezésükre bocsátott megoldási javaslatot!
- Kérjük, hogy minden feladat esetén a maximálisan adható pontszám melletti négyzetbe írja be az elért pontszámot a javítást végző tanár!
- A megoldólaptól eltérő, de tartalmában azonos egyéb helyes megoldás is elfogadható a ponthatáron belül a csillaggal (\*) jelölt kérdéseknél.
- A feladatlap szerkesztésénél Dr. Fábíán Pál – Dr. Magasi Péter Orvosi Helyesírási Szótár (Akadémia Kiadó, Országos Orvostudományi Információs Intézet és Könyvtár Budapest, 1992.) útmutatásait vettük figyelembe.
- Maximálisan adható pontszám: 100 pont
- Ponthatárok:

100 - 88	- jeles
87 - 75	- jó
74 - 62	- közepes
61 - 51	- elégséges
50 - 0	- elégtelen

**1. Ismertesse a VAB-4 pont jellemzőit a megadott szempontok szerint!**

**8 pont**

A. Helye: *a kézháton a mutató és hüvelykujj kézközépcsontjai találkozása előtti „völgyben található*

B. Indikáció: *- a négy legfontosabb pont egyike minden arckoponya területi problémára*

- orrvérzés*
- fogfájás*
- fogínygyulladás*
- szempanaszok*
- hallásproblémák*
- homloküreg-gyulladás*
- allergia*
- idegnyugtató*
- influenza esetén +EH-20*
- +SZB-60*

C. Masszázstechnika: *- megragadás*

- fogás*
- morzsolás*
- körömmel csipkedés*

(Az A részre: 1 pont; a B.és C részre: 0,5-0,5 pont adható!)

**2. Csoportosítsa az alábbi fogalmakat!  
Töltse ki a táblázatot!**

**7 pont**

férfi, külső, hideg, mozgás, nyugalom, nő, aktív, fölülről,  
lefelé, passzív, forró, Hold, Nap, belső, alulról felfelé

<b>Yin</b>	<b>Yang</b>
<i>Hold</i>	<i>Nap</i>
<i>nő</i>	<i>férfi</i>
<i>passzív</i>	<i>aktív</i>
<i>belső</i>	<i>külső</i>
<i>alulról felfelé</i>	<i>fölülről lefelé</i>
<i>hideg</i>	<i>forró</i>
<i>nyugalom</i>	<i>mozgás</i>

(Helyes válaszonként 0,5-0,5 pont adható!)

3. Jellemezze a VÍZ elemet az alábbi szempontok szerint! 6 pont

Klimatikus energiája: ...*hideg*...

Évszaka: *tél*...

égtája: ...*észak*...


Yin szerve: ...*vese*...

Yang szerve: ...*húgyhólyag*...

Testalkotói (Írjon egy /1/ példát!):...*haj, fogak, csontok, csontvelő, agyvelő*...

(Helyes válaszonként 1-1 pont adható!)

4. Rajzolja le a Yin és Yang szimbólumot! Írja le jellemzőit 6 pont   
a rajz alapján!



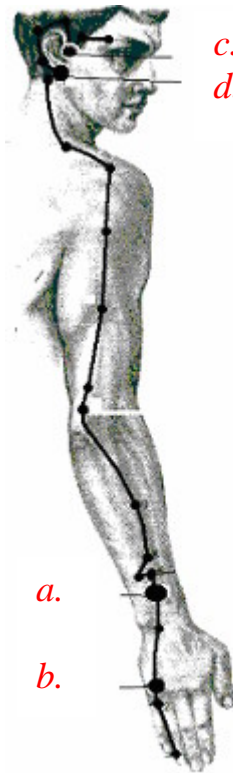
- *ellentétes polaritású erők*
- *egyensúlyban vannak*
- *egymástól elválaszthatatlanok*
- *egymást kiegészítők*
- *egymást hozzák létre*

(Rajzra: 1 pont; jellemzőire: 1-1 pont adható!)

5. Írja az akupresszúrás pontokhoz a leginkább jellemző indikáció betűjelét!

4 pont

- a.: termosztát pont  
 b.: fülfájás  
 c.: fül kapuja, -zúgás  
 d.: hátsó fogak



(Helyes válaszonként 1-1 pont adható!)

6.\* Soroljon fel a megadott szempontok alapján a Szél betegségek közül négyet-négyet /4-4/!

4 pont

Külső:

- |                     |                      |
|---------------------|----------------------|
| - nátha             | - fájó torok         |
| - láz               | - félelem a huzattól |
| - izzadás           | - orrdugulás         |
| - hirtelen fejfájás | - tüszentés          |

Belső:

- |                    |             |
|--------------------|-------------|
| - szédülés         | - reszketés |
| - fülzúgás         | - görcsök   |
| - végtag zsibbadás | - szélütés  |

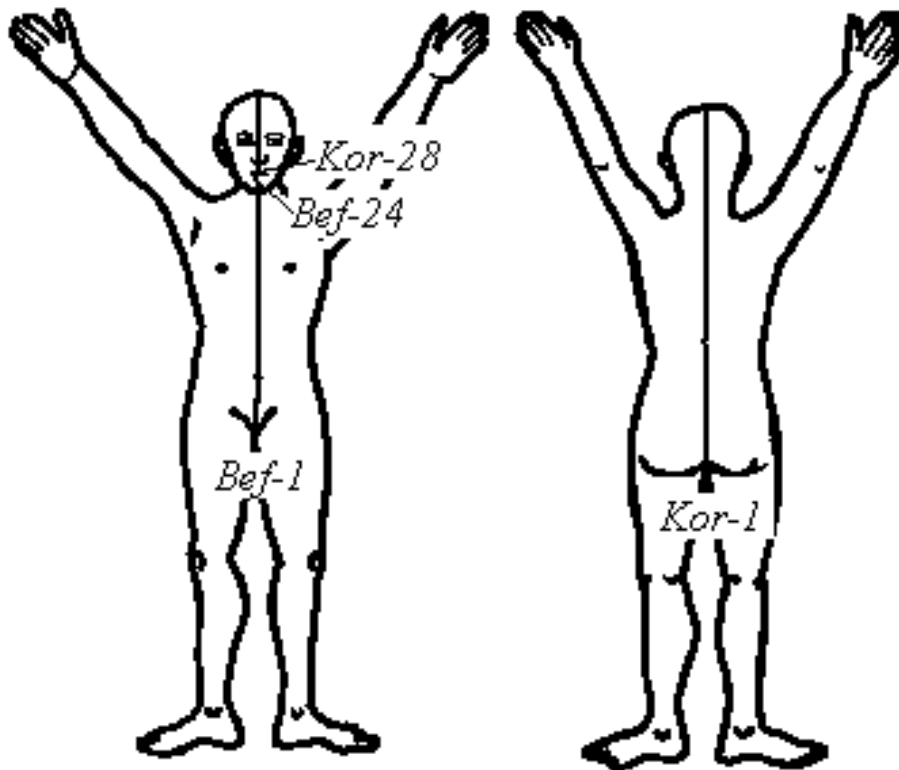
(Helyes válaszonként 0,5-0,5 pont adható!)

7. Írja le a Máj elem jellemzőit a megadott szempontok szerint! 5 pont

- A. A vért: ...*Tárolja*...
- B. A Máj további feladata: ...*védelem, méregtelenítés, epetermelés*...
- C. Lelki szerepe: ...*tervezés, előrelátás, indulatosság*...
- D. Az energiát: ...*A Q szabad áramlásáért felel,/ egyenletesen osztja el*...

(Az A és D szempontra: 1-1 pont, a B és C szempontra helyes válaszonként 0,5-0,5 pont adható!)

8. Rajzolja be az alábbi ábrába a másodlagos vezetékek (extrameridiánok) közül a saját ponttal rendelkezőket! Írja le a kezdő és végpontjainak jelét, számát! 8 pont



(A helyes rajzokért 2-2 pont, a pontok megnevezésére 1-1 pont adható!)

9. Nevezze meg a háti Shu pontokat a T9 csigolya alsó szélétől! 8 pont

1. *H-18 máj Shu pontja*
2. *H-19 epehólyag háti Shu pontja*
3. *H-20 lép háti Shu pontja*
4. *H-21 gyomor háti Shu pontja*
5. *H-22 hármasmeregítő háti Shu pontja*
6. *H-23 vese háti Shu pontja*
7. *H-24 Q1 tengere háti pontja*
8. *H-25 vastagbél háti Shu pontja*

(Helyes válaszonként 1-1 pont adható!)

10. Ismertesse, hogy a pulzus vizsgálatokor az egyes pulzus-helyek mely szervek állapotáról adnak információkat! Egészítse ki a táblázatot! 4 pont

		Bal kéz	Jobb kéz
<b>I. mutatóujj</b>	felületes	<i>vékonybél</i>	vastagbél
	mély	<i>szív</i>	<i>tüdő</i>
<b>II. középsőujj</b>	felületes	epe	<i>gyomor</i>
	mély	<i>máj</i>	lég
<b>III. gyűrűsujj</b>	felületes	hólyag	<i>hármasmeregítő</i>
	mély	<i>vese</i>	<i>szívburók</i>

(Helyes válaszonként 0,5-0,5 pont adható!)

- 11.\* Nevezzen meg öt /5/ olyan pontot, amelyet álmatlanság esetén masszírozna! 5 pont

- *Sz-7*
- *Bef. 12*
- *L 6*
- *Vese-1*
- *Bef. 4*

(Helyes válaszonként 1-1 pont adható!)

12. Nevezze meg az ábrán látható meridiánt!  
Írja meg kezdő- és végpontját, elemét, és energiamaximum idejét!

5 pont 

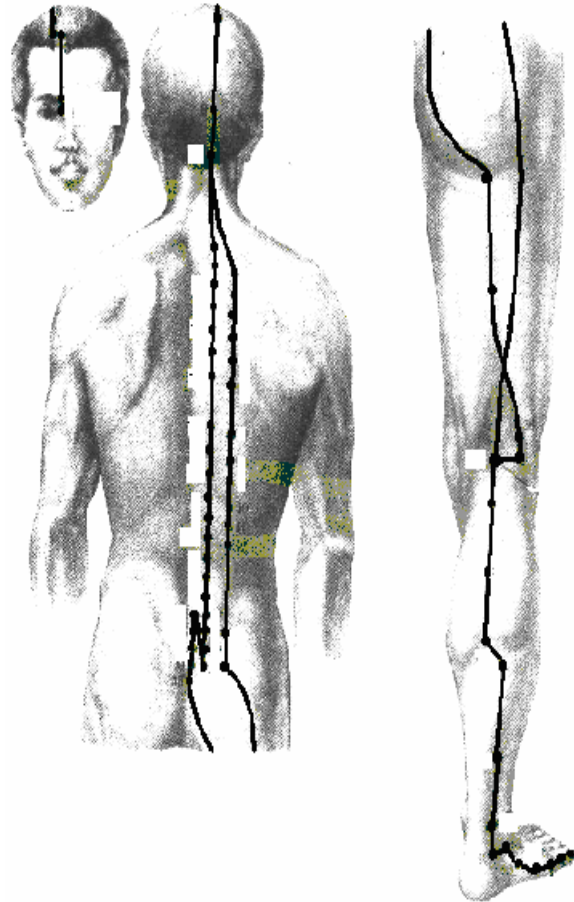
Neve: *Hugyhólyag meridián*

Kezdő pontja: *H-1*

Végpontja: *H-67*

Eleme: *Víz*

Energiamaximum ideje: *15-17 óra*



(Helyes válaszonként 1-1 pont adható!)

13. Sorolja fel az Öt elemhez rendelt színeket!

5 pont 

Fa - *zöld, kék*

Tűz - *piros*

Föld - *sárga*

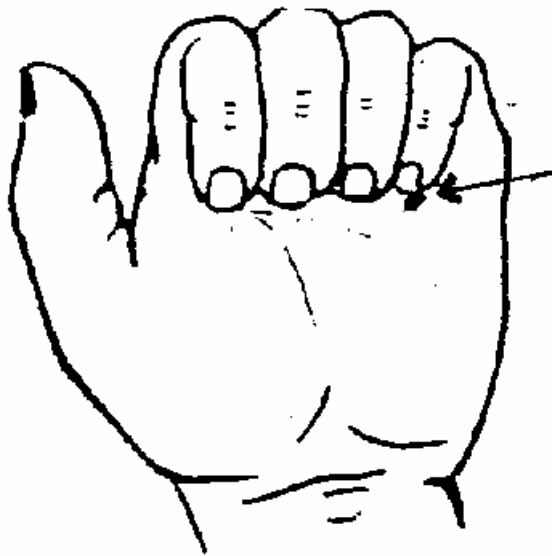
Fém - *fehér*

Víz - *fekete*

(Helyes válaszonként 1-1 pont adható!)



- 15.\* Nevezze meg az ábrán nyíllal jelölt akupresszúrás pontot! Írjon öt /5/ esetet, amikor ezt a pontot alkalmazzuk! 6 pont



Pont neve: ...*Szív-8 (Sz-8)*...

- minden szívprobléma esetén, mint a szív forrásponja
- lép-hiány esetén erősít, mivel táplálja az anya csatorna tüzét (tűz-pont)
- hiányos tüdő-működés esetén
- forráságérzet esetén a Szív tüzének levezetésére
- reumás szívbetegség esetén
- a „Vér forrósága” típusú menstruációs zavar esetén

(Helyes válaszonként 1-1 pont adható!)

16. Írja le az alábbi szervek elülső vész (mu) pontjait! 5 pont

Vastagbél: ...*Gy-25*...

Tüdő: ...*T-1*...

Szív: ...*Bef-14*...

Szívburok: ...*Bef-17*...

Hármas melegítő ...*Bef-5*...

(Helyes válaszonként 1-1 pont adható!)

17. Nevezze meg az ábrán látható meridiánt! 5 pont   
Írja meg kezdő- és végpontját, elemét, és energiamaximum idejét!

Meridián neve: ...*Szív meridián*...

Kezdő pontja: ...*Sz-1*...

Végpontja: ...*Sz-9*...

Eleme: ...*Tűz*...

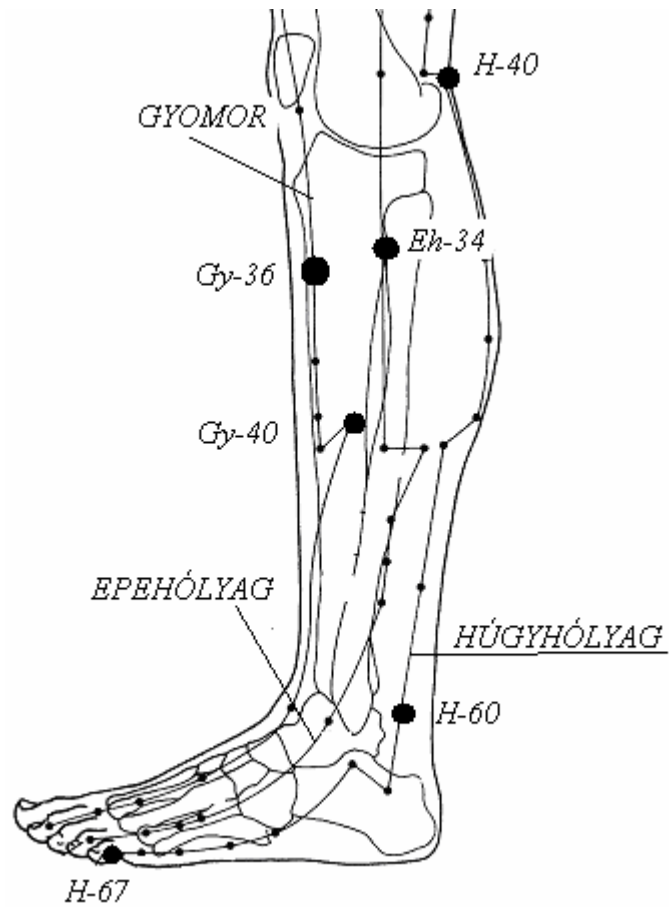
Energiamaximum ideje: ...*11-13 óra*...



(Helyes válaszonként 1-1 pont adható!)

18. Írja le az alábbi ábrán látható meridiánok nevét, valamint a kijelölt pontok jelét és számát!

9 pont



(A helyes meridiánokért valamint a pontok megnevezéséért 1-1 pont adható!)

This document was created with Win2PDF available at <http://www.daneprairie.com>.  
The unregistered version of Win2PDF is for evaluation or non-commercial use only.